

Wirtschaft und Recht

Serie A

Prüfungsdauer: 120 Minuten

Hilfsmittel:
 ▪ ZGB/OR (ohne Handnotizen)
 ▪ Taschenrechner (nicht programmierbar)

Name: Vorname:

Kand.-Nr: Klasse:

Themen	Mögliche Punkte	Erzielte Punkte
Teil 1: Grundlagen Wirtschaft und Recht		
1. Diverse Themen	7
2. Mietrecht	5
3. Versicherungen	4
4. Allgemeine Vertragslehre	6
5. Finanzierung	5
6. Grundlagen Marketing	5
7. Marktwirtschaft	13
Total Teil 1	45
Teil 2: Fall zur Betriebs- und Rechtskunde		
1. Unternehmen und Unternehmungsmodell	11
2. Verträge auf Arbeitsleistung und Personalwesen	13
3. Steuern und Anlagestrategien	9
4. Kaufvertrag	7
Total Teil 2	40
Teil 3: Fall zur Volkswirtschaftslehre		
	15
Total Teile 1 - 3	100
	Note:

Examinator/Examinatorin

Experte/Expertin (bzw. Zweitkorrektur)

Notenskala

Punkte	0 – 4	5 – 14	15 – 24	25 – 34	35 – 44	45 – 54	55 – 64	65 – 74	75 – 84	85 – 94	95 – 100
Note	1	1.5	2	2.5	3	3.5	4	4.5	5	5.5	6

Teil 1: Grundlagen Wirtschaft und Recht

45 Punkte

1. Diverse Themen

7 Punkte

Bei den folgenden Aufgaben sind **alle zutreffenden** Antworten anzukreuzen (Punktabzug bei fehlendem oder falschem Kreuz).

a) Welche Aussage(n) zur Betreibung sind richtig? (1P)

- Das Betreibungsamt prüft die Rechtmässigkeit der Forderung.
- Eine Betreibung kann ohne vorgängige Mahnung des Schuldners eingeleitet werden.
- Das Betreibungsregister zeigt nur Beteiligungen der letzten 5 Jahre.

b) Die Gründer einer AG sind eine Gesellschaft, sobald (1P)

- die Gründung öffentlich beurkundet ist.
- die Aktiengesellschaft im Handelsregister eingetragen ist.
- sie vereinbaren, mit gemeinsam Kräften oder Mitteln eine AG zu gründen.

c) Bei der Auflösung einer Ehe im ordentlichen Güterstand fallen... (1P)

- gesparte Mieterträge aus einer geerbten Liegenschaft der Errungenschaft zu.
- nicht-realisierte Kursgewinne von geerbten Aktien der Errungenschaft zu.
- Vermögenswerte dem Eigengut zu, solange ihre Qualifikation als Errungenschaft nicht bewiesen ist.

d) Welche Aussage(n) zum Unterschied zwischen Aktien und Obligationen sind richtig? (2P)

- Während steigende Dividenden eine Aktie langfristig attraktiver machen, führen steigende Marktzinsen bei bestehenden Obligationen zu sinkenden Kursen.
- Kotierte Obligationen sind unter Liquiditätsaspekten vorteilhafter als kotierte Aktien.
- Die Volatilität ist bei Obligationen normalerweise geringer als bei Aktien. Dies hat unter anderem damit zu tun, dass fix vereinbarte Zinszahlungen einfacher prognostizierbar sind als vom zukünftigen Geschäftsverlauf abhängige Dividendenzahlungen.
- Aktien eignen sich als Anlage in einem inflationären Umfeld normalerweise besser als Obligationen. Der Grund liegt darin, dass der Zins einer Obligation im Gegensatz zur Aktiendividende nicht automatisch der Inflation angepasst wird.

e) Welche Aussage(n) zum Bruttoinlandprodukt (BIP) und Bruttonationaleinkommen (BNE) sind richtig? (2P)

- Das BIP gemäss dem Produktionsansatz ergibt sich aus der Summe aus privaten Konsumausgaben, staatlichen Konsumausgaben, Bruttoinvestitionen und Exporten abzüglich Importen.
- In das nominelle BIP-Wachstum fliessen sowohl die Entwicklung der Gütermenge als auch der Güterpreise ein.
- In der Schweiz produzierte und ins Ausland exportierte Rüstungsgüter wirken sich nicht auf das BIP aus, da sie nicht im Landesindex der Konsumentenpreise enthalten sind.
- Bei der Berechnung des BNE werden auch im Ausland erbrachte Leistungen von Inländern berücksichtigt.

2. Mietrecht

5 Punkte

Walter Freiburghaus wohnt als Mieter in einer charmanten 3,5-Zimmerwohnung in Stäfa ZH. Seit geraumer Zeit hat er Probleme mit einem grösseren Schimmelbefall in seinem Badezimmer. Am 12. Oktober 2022 informiert Walter Freiburghaus seinen Vermieter schriftlich über den Schimmelbefall und fordert ihn auf, den Schimmel zu entfernen. Der Vermieter wirft Walter Freiburghaus vor, zu wenig gelüftet zu haben und kündigt umfangreiche Feuchtigkeitsmessungen an.

- a) Auf welches Recht beruft sich der Mieter, wenn er vom Vermieter die Beseitigung des Schimmels fordert? Nennen Sie auch den relevanten Gesetzesartikel (2P)

Recht:

Gesetz: _____ Artikel: _____

- b) Nachdem bereits mehrere Wochen ein Feuchtigkeitsmessgerät in seinem Badezimmer steht, ohne dass der Vermieter Anstalten macht, den Schimmel zu beseitigen, wendet sich Walter Freiburghaus am 3. Dezember 2022 an die Schlichtungsbehörde, um den Vermieter zur Beseitigung zu zwingen. Der Vermieter ist sehr erbost darüber, dass Walter Freiburghaus wegen dem Schimmelbefall ein Schlichtungsverfahren eingeleitet hat und kündigt darum den Mietvertrag am 12. Dezember 2022 auf den nächstmöglichen Termin. Kreuzen Sie an und begründen Sie Ihre Wahl. Nennen Sie auch den massgebenden Gesetzesartikel. (3P)

Gültige Kündigung

Anfechtbare Kündigung

Nichtige Kündigung

Begründung:

Gesetz: _____ Artikel: _____ Absatz: _____ lit. _____

3. Versicherungen

4 Punkte

Eine grosse Pensionskasse orientiert die Versicherten über den Verlauf des Geschäftsjahrs:

«Der technische Deckungsgrad (Anmerkung: Deckungsgrad = Vorsorgevermögen im Verhältnis zu den Verpflichtungen) ist im ersten Halbjahr 2022 von 111,6 auf 98,6 Prozent gesunken. Diese Unterdeckung kam durch globale Umstände wie den Krieg in der Ukraine, sinkende Aktienkurse aufgrund pandemiebedingter Lieferengpässe sowie durch die starke Erhöhung der Zinssätze zustande. Im Grunde freut uns der Zinsanstieg. Es ist uns aber bewusst, dass steigende Zinsen auf der Anlageseite, vor allem bei Obligationen im Bestand, zu negativen Bewertungskorrekturen führen und somit ein kurzfristiges Absinken des Deckungsgrads zur Folge haben.»

Kreuzen Sie untenstehend alle zutreffenden Aussagen zum obigen Text und zur Entwicklung des Pensionskassenvermögens im 1. Halbjahr 2022 an (Fehlende oder falsche Kreuze werden mit einem Punkteabzug bewertet):

Die stark ansteigenden Marktzinsen haben zu einem Wertverlust bei den Obligationen geführt, da der Zinscoupon bei bestehenden Obligationen über die ganze Laufzeit fix ist und somit nicht an den steigenden Marktzinsen angepasst wird.

Bei einem Deckungsgrad von 98,6 Prozent besteht die unmittelbare Gefahr, dass diese Pensionskasse ihre laufenden Verpflichtungen (z.B. Rentenzahlungen) nicht mehr erfüllen kann.

Die steigenden Marktzinsen haben zusammen mit den pandemiebedingten Lieferengpässen zu fallenden Obligationenzinsen geführt.

Die stark ansteigenden Marktzinsen sind ein plausibler Grund für die fallenden Aktienkurse.

Der Zinsanstieg ist ein wichtiger Grund für das schlechte Anlageergebnis und den Fall des Deckungsgrades unter 100%. Jedoch sind die steigenden Zinserträge auf Obligationen mittelfristig auch eine erfreuliche Sache, da sie für die Pensionskasse die Erfüllung laufender Verpflichtungen wie Rentenzahlungen erleichtern.

Eine klassische Diversifikationsregel, wonach die Kursentwicklung von Aktien und Obligationen normalerweise negativ korreliert (gegensätzlich verläuft), hat sich im 1. Halbjahr 2022 nicht bestätigt.

4. Allgemeine Vertragslehre

6 Punkte

In der untenstehenden Tabelle sehen Sie verschiedene Aussagen zur allgemeinen Vertragslehre. Kreuzen Sie an, ob diese Aussagen richtig oder falsch sind. Nennen Sie in jedem Fall den für Ihre Entscheidung relevanten OR-Artikel (Absatz nicht verlangt) und korrigieren Sie die falschen Aussagen. Als „falsch“ angekreuzte Aussagen ohne Begründung werden nicht mit einem Punkt bewertet.

Aussagen	richtig	falsch
1. Wenn eine unbestellte Ware zugesendet wird, ist der Empfänger verpflichtet, die Sache zurückzusenden oder wenigstens aufzubewahren. Korrektur: OR-Artikel: _____	<input type="checkbox"/>	<input type="checkbox"/>
2. Aus Unwissen bezahlt Herr Nievergelt eine bereits verjährte Arztrechnung. Glücklicherweise wurde er von einem Freund auf die bereits verjährte Forderung aufmerksam gemacht und kann den zu Unrecht bezahlten Geldbetrag vom Arzt wieder zurückfordern. Korrektur: OR-Artikel: _____	<input type="checkbox"/>	<input type="checkbox"/>
3. Bei einer Zession kann der Schuldner die Kundenforderung ohne Einwilligung des entsprechenden Kunden an den Gläubiger abtreten. Korrektur: OR-Artikel: _____	<input type="checkbox"/>	<input type="checkbox"/>

5. Finanzierung

5 Punkte

Die Maschinen AG ist im Bereich Maschinenbau tätig. Zur Finanzierung der Expansionsstrategie für die nächsten Jahre benötigt das Unternehmen CHF 50'000'000.- zusätzliches Kapital. Beantworten Sie die folgenden Fragen zu den verschiedenen Finanzierungsmöglichkeiten.

- a) Nennen Sie den Fachbegriff für das Finanzierungsinstrument, falls eine Fremdfinanzierung über die Börse erfolgen soll. (1P)

- b) Nennen Sie den Fachbegriff für das Finanzierungsinstrument, falls eine Beteiligungsfinanzierung über die Börse erfolgen soll. (1P)

- c) Nennen Sie den Fachbegriff für den Finanzierungsvorgang, falls eine Selbstfinanzierung präferiert wird. (1P)

- d) Vergleichen Sie die Kreditfinanzierung mit der Beteiligungsfinanzierung. Nennen Sie je einen Vorteil. (2P)

Vorteil Kreditfinanzierung	Vorteil Beteiligungsfinanzierung

6. Grundlagen Marketing

5 Punkte

Das Fachgeschäft Burri Elektro beschreibt sich selbst folgendermassen: «Radio TV HiFi Multimedia, das Fachgeschäft für Unterhaltungselektronik mit kompetenter Beratung».

a) Entscheiden Sie durch Ankreuzen, ob folgende Aussagen Markt- oder Produktziele betreffen (Fehlende oder falsche Kreuze werden mit einem Punkteabzug bewertet). (2P)

Aussagen	Marktziel	Produktziel
1. Wir haben eine anspruchsvolle Kundschaft, welche viel Wert auf eine gute Beratung legt und sich das auch etwas kosten lässt.	<input type="checkbox"/>	<input type="checkbox"/>
2. In unserem Laden verkaufen wir ab sofort keine TV-Geräte der Marke Samsung mehr. Dafür verkaufen wir neu auch Smartphones.	<input type="checkbox"/>	<input type="checkbox"/>
3. Das TV-Gerät Primus ist von hoher Qualität, jedoch ist das Modell schon fast 5 Jahre auf dem Markt. Gemäss dem Hersteller gehen die Verkäufe zwar zurück, jedoch wird mit dem Modell immer noch ein Gewinn erzielt.	<input type="checkbox"/>	<input type="checkbox"/>

b) Zu Aussage 2 von Teilaufgabe a): Wie verändert sich das Sortiment durch die Massnahmen? Nennen Sie den/die Fachbegriff(e). (2P)

c) Zu Aussage 3 von Teilaufgabe a): In welcher Phase innerhalb des Produktlebenszyklus befindet sich das beschriebene Modell? (1P)

7. Marktwirtschaft

13 Punkte

Lesen Sie den folgenden Auszug eines Artikels, publiziert im TagesAnzeiger vom 02.09.2022:

G-7 will eine Preisgrenze für russisches Öl durchsetzen (Tagesanzeiger 02.09.2022, SDA/ali)

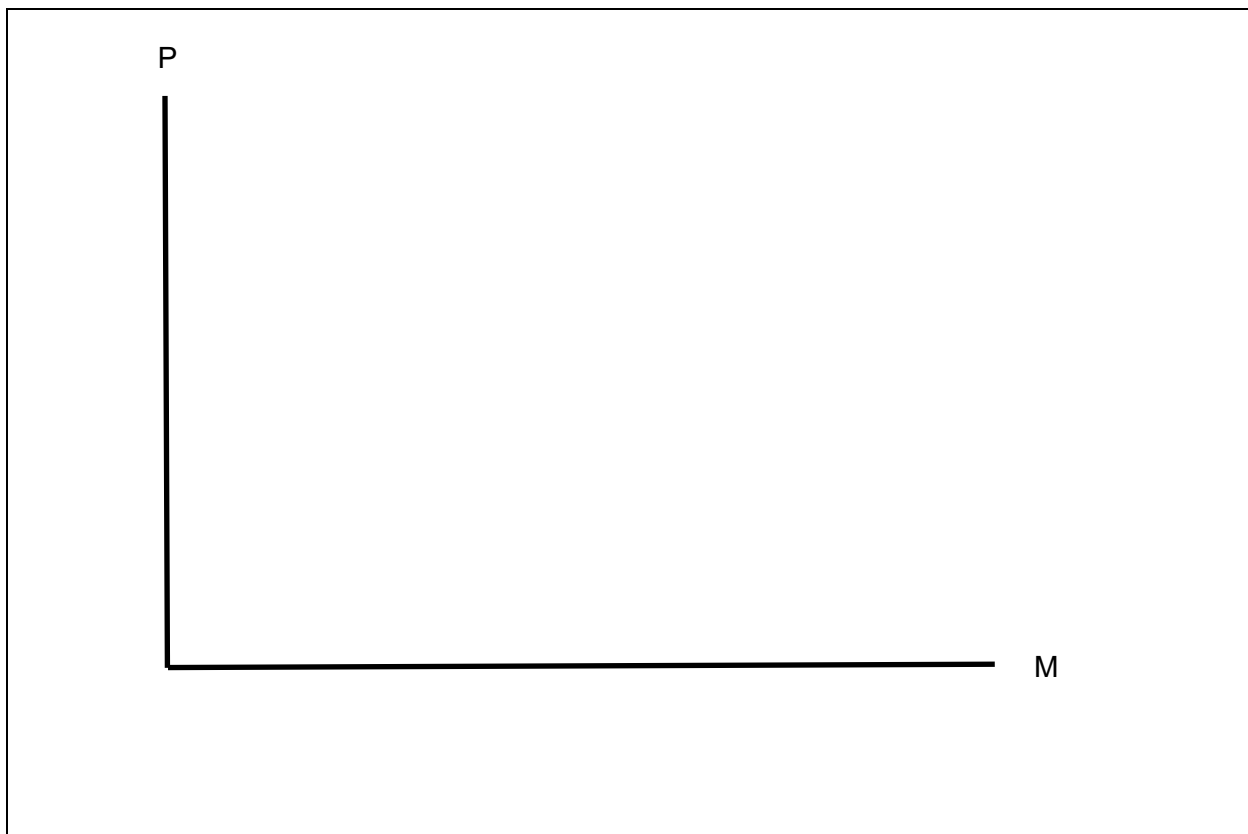
Russland profitiert vom Krieg dank steigender Energiepreise. Die Finanzminister der sieben grössten Industriestaaten (der G-7) wollen dem ein Ende setzen. Doch der Plan hat Tücken.

Die Finanzminister der wirtschaftsstarken Demokratien der G-7 wollen einen Preisdeckel auf russisches Öl durchsetzen. In einer gemeinsamen Erklärung, die der Deutschen Presse-Agentur vorliegt, forderten sie am Freitag zudem alle Länder, die russisches Öl importieren, auf, sich dieser Massnahme anzuschliessen. «Wir streben eine breite Koalition an, um die Effektivität zu maximieren», heisst es in dem Papier. Im Kern wollen die G-7-Staaten Russland dazu zwingen, Öl künftig zu einem deutlich niedrigeren Preis zu verkaufen. Wo genau dieser Preisobergrenze liegen soll, ist derzeit noch unklar. Klar ist dagegen, dass der Plan nur funktioniert, wenn auch grosse Abnehmer wie Indien sich der Initiative anschliessen. (...)

- a) Skizzieren Sie die wirtschaftliche Situation auf dem Markt für russisches Öl im Preis-Mengen-Diagramm unter der Annahme, dass sich der Ölmarkt vor der Massnahme wie ein Markt unter vollkommener Konkurrenz verhält. Gehen Sie davon aus, dass sich alle Länder an die beschriebenen Massnahmen halten. (3P)

Skizzieren Sie:

- die Angebots- und Nachfragekurve(n), bezeichnen Sie dabei jeweils, ob es sich bei den Kurven um eine Angebots- (A) oder Nachfragekurve (N) handelt
- den gehandelten Preis und die gehandelte Menge vor Einführung der erwähnten Massnahme und bezeichnen Sie diese mit P1 und M1.
- den gehandelten Preis und die gehandelte Menge nach Einführung der erwähnten Massnahme und bezeichnen Sie diese mit P2 und M2.
- Bezeichnen Sie die Preis- und die Mengenänderung mit je einem Pfeil



- b) Erläutern Sie, weshalb wie im Artikel erwähnt, die Massnahme «nur funktioniert, wenn auch grosse Abnehmer wie Indien sich der Initiative anschliessen». (1P)

- c) Angenommen, Russland ist über die Einführung einer Preisobergrenze für russisches Erdöl verärgert und reduziert deshalb den Export von russischem Gas nach Europa.

1. Kreuzen Sie die entsprechenden Auswirkungen auf das Preis-Mengen-Diagramm des Markts für russisches Öl an. (1P)

Rechtsverschiebung der Angebotskurve

Linksverschiebung der Angebotskurve

Rechtsverschiebung der Nachfragekurve

Linksverschiebung der Nachfragekurve

2. Kreuzen Sie an, wie sich die Reduktion des Gasexports auf die gehandelte Menge an Erdöl auswirkt unter der Annahme, dass die im Zeitungsartikel erwähnte Preisobergrenze eingeführt wurde und durchgesetzt wird, und begründen Sie Ihre Wahl. (2P)

Zunahme

Abnahme

Keine Veränderung

Begründung:

d) Anstelle der Einführung einer Preisobergrenze wird als wirtschaftsfördernde und die Haushalte entlastende Massnahme auch eine zeitweilige Reduktion der CO₂-Abgabe diskutiert.

1. Kreuzen Sie die entsprechenden Auswirkungen auf das Preis-Mengen-Diagramm für Erdöl an. Es können mehrere Antworten zutreffen (Fehlende oder falsche Kreuze werden mit einem Punkteabzug bewertet): (2P)

Rechtsverschiebung der Angebotskurve

Linksverschiebung der Angebotskurve

Rechtsverschiebung der Nachfragekurve

Linksverschiebung der Nachfragekurve

Erhöhung des Marktpreises

Senkung des Marktpreises

2. Kreuzen Sie an, wie sich die zeitweilige Reduktion der CO₂-Abgabe auf die folgenden wirtschaftspolitischen Ziele auswirkt und begründen Sie Ihre Wahl. (4P)

Ziel 1: Preisstabilität

Auswirkung:

vorteilhaft

nachteilig

entsprechend

Begründung:

Ziel 2: Vollbeschäftigung

Auswirkung:

vorteilhaft

nachteilig

entsprechend

Begründung:

Teil 2: Fall zur Betriebs- und Rechtskunde

40 Punkte

Hinweis: Verschaffen Sie sich zuerst einen Überblick zu den Fragestellungen.
Lesen Sie danach die Texte im Anhang (Beilage).

Fragen und Aufträge zur Fallstudie Orell Füssli

1. Unternehmen und Unternehmungsmodell

11 Punkte

a) Kreuzen Sie bei den nachstehenden Aussagen zur Beilage A an, ob diese richtig oder falsch sind und korrigieren Sie die falschen Aussagen. Als „falsch“ angekreuzte Aussagen ohne Begründung werden nicht mit einem Punkt bewertet. (4P)

Aussagen

richtig falsch

1. Die Orell Füssli AG weist verschiedene Divisionen auf. Unter einer Division versteht man, dass ähnliche Funktionen in einer Abteilung zusammengefasst werden.

Korrektur:

2. Die Orell Füssli Thalia AG konnte den Umsatz im ersten Halbjahr 2022 gegenüber dem Vorjahr um rund 8.7% steigern.

Korrektur:

3. Orell Füssli gehört aufgrund ihrer Mitarbeiterzahl zu den KMU.

Korrektur:

4. Die Aktien von Orell Füssli können an der Schweizer Börse gekauft werden.

Korrektur:

b) In Beilage A sind drei Textstellen unterstrichen und mit a) bis c) beschriftet. Bestimmen Sie für die unterstrichenen Textstellen die zutreffende Umweltsphäre. (3P)

Umweltsphäre a) _____

Umweltsphäre b) _____

Umweltsphäre c) _____

c) Ordnen Sie die nachfolgenden Aussagen zur Orell Füssli AG dem richtigen Bereich des Unternehmenskonzepts zu, indem Sie die Nummer der Aussage ins richtige Feld schreiben. (4P)

1. Ab 2024 sollen Einkäufe in allen Buchhandlungen ausschliesslich kontaktlos mit der Bankomatkarte bezahlt werden können.
2. Im Bildungsgeschäft wollen wir unsere Position sowohl analog als auch digital weiter stärken.
3. In unserem Unternehmen wollen wir die Gleichstellung fördern.
4. Aus- und Weiterbildung sowie Nachwuchsförderung sind für uns von zentraler Bedeutung.

	Leistung	Finanzen	Soziales
Ziel			
Mittel, Verfahren			

2. Verträge auf Arbeitsleistung und Personalwesen

13 Punkte

Frau Merk arbeitet seit dem 1. Januar 2015 als Buchhändlerin bei Orell Füssli. Im Arbeitsvertrag wurden keine vom Gesetz abweichenden Vereinbarungen getroffen.

- a) In Beilage B sehen Sie das Kündigungsschreiben von Frau Merk, welches sie der Personalverantwortlichen, Frau Müller, am 12. August 2022 per Mail zugestellt hat. Das Kündigungsschreiben weist zwei Fehler auf. Notieren Sie diese zwei Fehler in die untenstehende Tabelle und berichtigen Sie diese. (2P)

Fehler	Berichtigung

- b) Frau Müller (Personalverantwortliche Orell Füssli) ist der Meinung, dass die Kündigung von Frau Merk aufgrund ihrer Erkrankung nichtig ist. Frau Merk hingegen ist davon überzeugt, dass die Kündigung rechtlich gültig ist. Wer von den beiden hat Recht? Begründen Sie Ihre Wahl. (2P)

Frau Müller (Personalverantwortliche Orell Füssli)

Frau Merk (Arbeitnehmerin)

Begründung:

- c) Gemäss Arbeitsvertrag hat Frau Merk pro Jahr 25 Ferientage zugute. Bisher hat sie davon 10 Tage bezogen. Wie viele Tage muss Orell Füssli ihr am Ende der Kündigungsfrist noch ausbezahlen, wenn Frau Merk im Jahr 2022 während vier Wochen krankgeschrieben war? Gehen Sie davon aus, dass das Arbeitsverhältnis Ende November 2022 endet. Der Lösungsweg ist aufzuführen. (2P)

- d) Der Job von Frau Merk als Buchhändlerin soll neu besetzt werden. Orell Füssli hat sich entschieden, extern nach einer geeigneten Kandidatin/einem geeigneten Kandidaten zu suchen.

Nennen Sie zwei Vorteile der externen Personalrekrutierung gegenüber der internen. (2P)

zwei Vorteile:

- e) Vor drei Wochen hat Herr Mario Ospelt einen Arbeitsvertrag bei Orell Füssli Thalia AG für einen Job in der Buchhandlung St. Gallen unterschrieben. Am Morgen des ersten Arbeitstages erschien Herr Ospelt jedoch nicht wie vereinbart um 9.00 Uhr in der Buchhandlung. Die Verkaufsleiterin der Buchhandlung, Frau Gerber, versuchte anschliessend, Herrn Ospelt zu erreichen. Nach mehreren Versuchen erreichte sie ihn schliesslich um 12.00 Uhr des gleichen Tages. Herr Ospelt teilte ihr mit, dass er seine Stelle bei Orell Füssli nicht antreten werde, da er einen interessanteren Job gefunden habe.

Welchen Anspruch kann Orell Füssli gegenüber Herrn Ospelt geltend machen? Geben Sie zudem den entsprechenden Gesetzesartikel an. (2P)

Gesetz: _____ Artikel: _____ Absatz: _____

f) Nachstehend sind Beschreibungen zu Mitwirkungsrechten aus dem Alltag von Orell Füssli aufgeführt. Kreuzen Sie an, um welches Mitwirkungsrecht es sich bei den einzelnen Beschreibungen handelt.

1. Die Mitarbeitenden der Orell Füssli-Buchhandlung Rösslitor St. Gallen erstellen den wöchentlichen Arbeitsplan selbständig. (1P)

Information

Mitsprache

Mitbestimmung

Selbstbestimmung

2. Die Mitarbeitenden von Orell Füssli werden monatlich von der Geschäftsleitung via Newsletter über Ereignisse und Pläne des Unternehmens orientiert. (1P)

Information

Mitsprache

Mitbestimmung

Selbstbestimmung

3. Die Mitarbeitenden von Orell Füssli können sich mit Verbesserungsvorschlägen, beispielsweise zur Erhöhung der Kundenzufriedenheit, an die Geschäftsleitung wenden. Die Geschäftsleitung trifft dann entsprechende Entscheide. (1P)

Information

Mitsprache

Mitbestimmung

Selbstbestimmung

3. Steuern und Anlagestrategien

9 Punkte

- a) Nachstehend sind zwei Geschäftsfälle von Orell Füssli aufgeführt, in welchen je eine Steuerart erwähnt wird. Ergänzen Sie die nachstehende Tabelle, indem Sie für jede erwähnte Steuerart die Steuerhoheit, das Steuersubjekt sowie den Steuerträger aufführen. Hinweis zur Bewertung: Pro vollständig richtige Zeile: 2P, minus 1 Punkt pro Fehler, aber keine Negativpunkte pro Zeile. (4P)

Geschäftsfall	Steuerhoheit	Steuersubjekt	Steuerträger
Der Kunde Moritz Benz kauft bei der Orell Füssli-Buchhandlung Rösslitor in St. Gallen verschiedene Bücher über CHF 256.25 inkl. 2.5% Mehrwertsteuer.			
Die Orell Füssli AG überweist ihren Aktionären die Dividende abzüglich Verrechnungssteuer.			

- b) Herr Furrer arbeitet seit einigen Monaten bei Orell Füssli. Sein steuerbares Einkommen wird im Jahr 2022 rund CHF 71'400.00 betragen. Im letzten Jahr betrug sein steuerbares Einkommen CHF 35'500.00, da er sein Arbeitspensum aufgrund einer Weiterbildung reduziert hatte. Wie wird sich das höhere steuerbare Einkommen von Herrn Furrer auf seine Steuerbelastung auswirken? Kreuzen Sie die korrekte Antwort an. (1P)

- Die Steuerbelastung 2022 wird sich gegenüber 2021 in etwa verdoppeln.
- Die Steuerbelastung 2022 wird sich gegenüber 2021 weniger als verdoppeln.
- Die Steuerbelastung 2022 wird sich gegenüber 2021 mehr als verdoppeln.
- Keine der obigen Aussagen ist richtig.

- c) Die Doppelbesteuerung stellt bei juristischen Personen, wie beispielsweise der Orell Füssli AG, eine steuerliche Problematik dar. Welche der nachfolgenden Aussagen zur «Doppelbesteuerung» ist korrekt? Kreuzen Sie an. (1P)

- Der Gewinn sowie das Kapital der AG unterliegen einem Steuersatz, der doppelt so hoch ist wie der Steuersatz auf dem steuerbaren Einkommen für natürliche Personen.
- Der Gewinn sowie das Kapital einer AG werden doppelt besteuert. Zum einen bei der AG (Kapital und Gewinn) zum anderen beim Aktionär (Dividende und Kapitalanteile).
- Der Gewinn sowie das Kapital der AG werden einmal bei Bund und einmal beim Kanton besteuert, weshalb man von einer Doppelbesteuerung spricht.
- Keine der obigen Aussagen ist richtig.

d) Frau Caroline Berger ist Aktionärin der Orell Füssli AG. In Beilage C ist das Wertschriftendepot von Frau Berger abgebildet. Lösen Sie die nachstehenden Aufgaben dazu.

1. Nennen Sie einen Grund, weshalb der Zins der Obligation der Republik Bolivien höher ist als der Zins auf der Kassenobligation der Zürcher Kantonalbank. (1P)

2. Welche Anlagestrategie verfolgt Frau Berger? Kreuzen Sie die korrekte Antwort an und begründen Sie Ihren Entscheid. (2P)

konservative / einkommensorientierte Anlagestrategie

ausgewogene Anlagestrategie

dynamische / wachstumsorientierte Anlagestrategie

Begründung:

4. Kaufvertrag

7 Punkte

Berücksichtigen Sie für das Lösen dieser Aufgabe die Allgemeinen Geschäftsbedingungen von Orell Füssli Thalia AG in Beilage D.

- a) Frau Mettler bestellt am 15. September 2022 im Online-Shop von Orell Füssli mehrere Bücher auf Rechnung. Einige Minuten später erhält sie von Orell Füssli eine Bestelleingangsbestätigung per E-Mail. Ist aufgrund der Bestelleingangsbestätigung von Orell Füssli Thalia AG ein Kaufvertrag zustande gekommen? Kreuzen Sie an. (1P)

ja

nein

- b) Zehn Tage nach der Bestellung sind die Bücher noch nicht bei Frau Mettler angekommen. Als sie bei Orell Füssli Thalia AG nachfragt, wird ihr mitgeteilt, dass man die Bücher bereits am 16. September 2022 bei der Post zum Versand aufgegeben hat. Da Orell Füssli Thalia AG die Portokosten für den Versand der bestellten Bücher übernommen hat, ist Frau Mettler der Meinung, dass diese auch das Risiko eines eventuellen Verlustes der Lieferung trägt. Es wurden keine speziellen Abmachungen hinsichtlich der Übernahme des Risikos vereinbart. Wie sieht die Rechtslage in diesem Fall aus? Kreuzen Sie die korrekte Antwort an. (1P)

Wenn Orell Füssli Thalia AG die Transportkosten übernimmt, trägt sie auch das Risiko.

Frau Mettler trägt das Risiko, auch wenn Orell Füssli Thalia AG die Transportkosten übernimmt.

- c) Nach zwei weiteren Tagen treffen die Bücher bei Frau Mettler ein. Beim Durchblättern eines der Bücher stellt Frau Mettler fest, dass im Buch 10 Seiten fehlen. Welche der nachstehenden Rechte stehen Frau Mettler gemäss den Allgemeinen Geschäftsbedingungen von Orell Füssli Thalia AG (Beilage D) zu? Kreuzen Sie an. (1P)

Wandelung

Minderung

Ersatz

- d) Welches Sicherungsmittel ist in den Allgemeinen Geschäftsbedingungen von Orell Füssli Thalia AG (Beilage D) unter Punkt (6) beschrieben? Es ist der korrekte Fachbegriff verlangt. (1P)

Sicherungsmittel (Fachbegriff):

- e) Mario Egger hat seinem Patensohn Ramon zum Geburtstag bei Orell Füssli ein Bilderbuch gekauft. Leider gefällt das Bilderbuch Ramon nicht. Mario Egger geht deshalb zur Buchhandlung, bei welcher er das Buch gekauft hat und möchte dieses umtauschen. Ist Orell Füssli verpflichtet, das Buch umzutauschen? Kreuzen Sie an, begründen Sie Ihre Antwort und führen Sie zudem den massgebenden Gesetzesartikel auf. (3P)

Entscheid: Ja, Orell Füssli muss das Buch umtauschen.

Nein, Orell Füssli muss das Buch nicht umtauschen.

Begründung:

Gesetz: _____ Artikel: _____ Absatz: _____

Teil 3: Fall zur Volkswirtschaftslehre

15 Punkte

Die Delegierten der Schweizerischen Nationalbank (SNB) führen vierteljährlich Gespräche mit Mitgliedern von über 200 Unternehmensleitungen in der ganzen Schweiz. Der Quartalsbericht der SNB fasst die Hauptergebnisse dieser Gespräche zusammen. Der Quartalsbericht ist eine vielbeachtete Analyse der Wirtschaft und des Umfeldes. Die SNB leitet daraus ihre Aktivitäten zur Geldpolitik ab.

Auszüge aus dem **Quartalsbericht zum 2. Quartal 2022** der SNB sind im Folgenden mit einem Strich am linken Rand gekennzeichnet. Es kann sich dabei um Text oder Grafiken handeln.

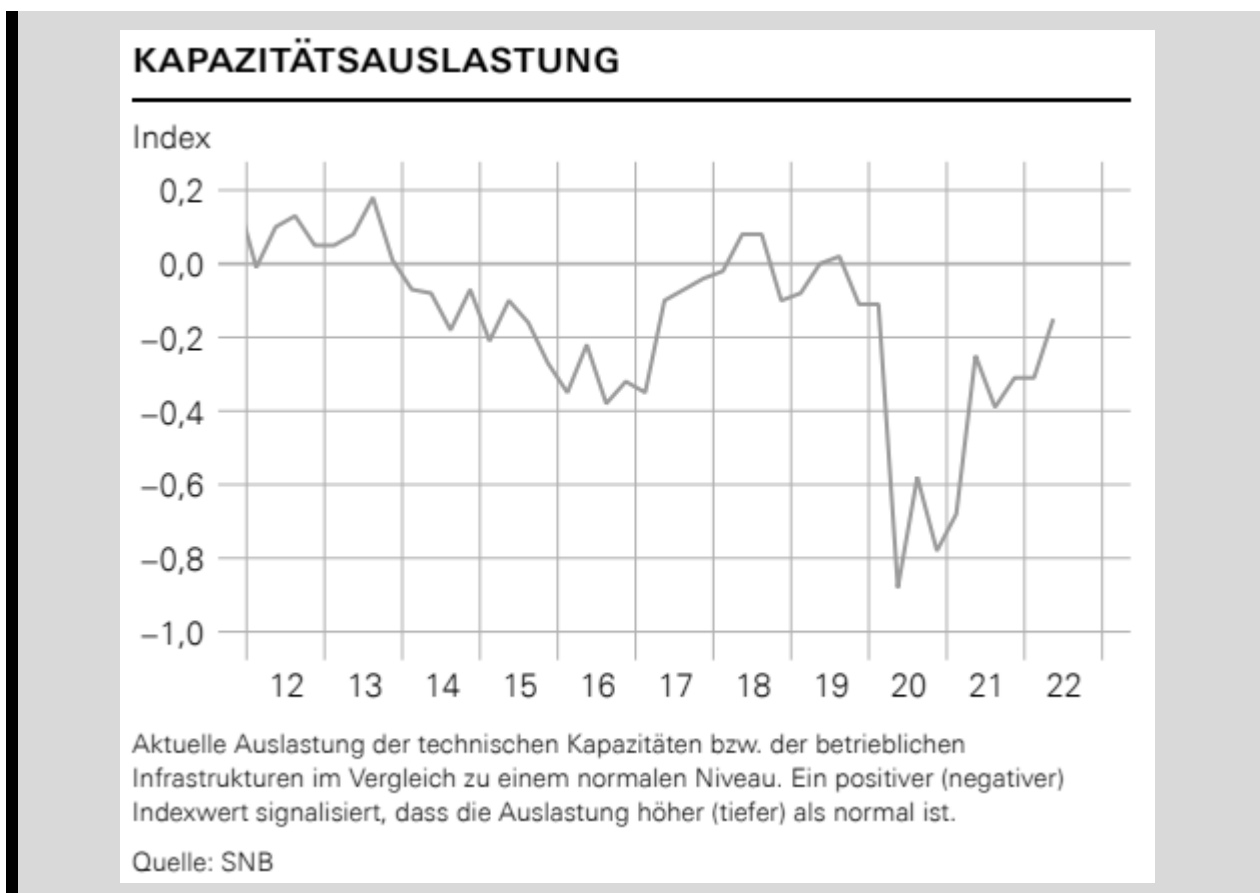
Hinweis der SNB zur Interpretation der Grafiken

Die Grafiken sind als eine numerische Zusammenfassung der erhaltenen qualitativen Informationen zu betrachten. Der dargestellte Indexwert entspricht einem Durchschnitt der Ergebnisse über alle besuchten Unternehmen. Bei der Interpretation der Kurven ist die Tendenz relevant und weniger das numerische Niveau oder dessen exakte Veränderung.

Hinweis zum Lösen des Falls zur VWL

Nehmen Sie immer zur beschriebenen Situation Stellung, nicht zum derzeit aktuellen Umfeld!

Beantworten Sie die Fragen zum Quartalsbericht der SNB zum 2. Quartal 2022.



- a) Konjunktur: Warum nahm die Kapazitätsauslastung gemäss vorstehender Grafik im Jahr 2020 drastisch ab? Begründen Sie. Hinweis: Eine Begründung besteht aus mehr als einem einzigen Begriff! (1P)

Begründung:

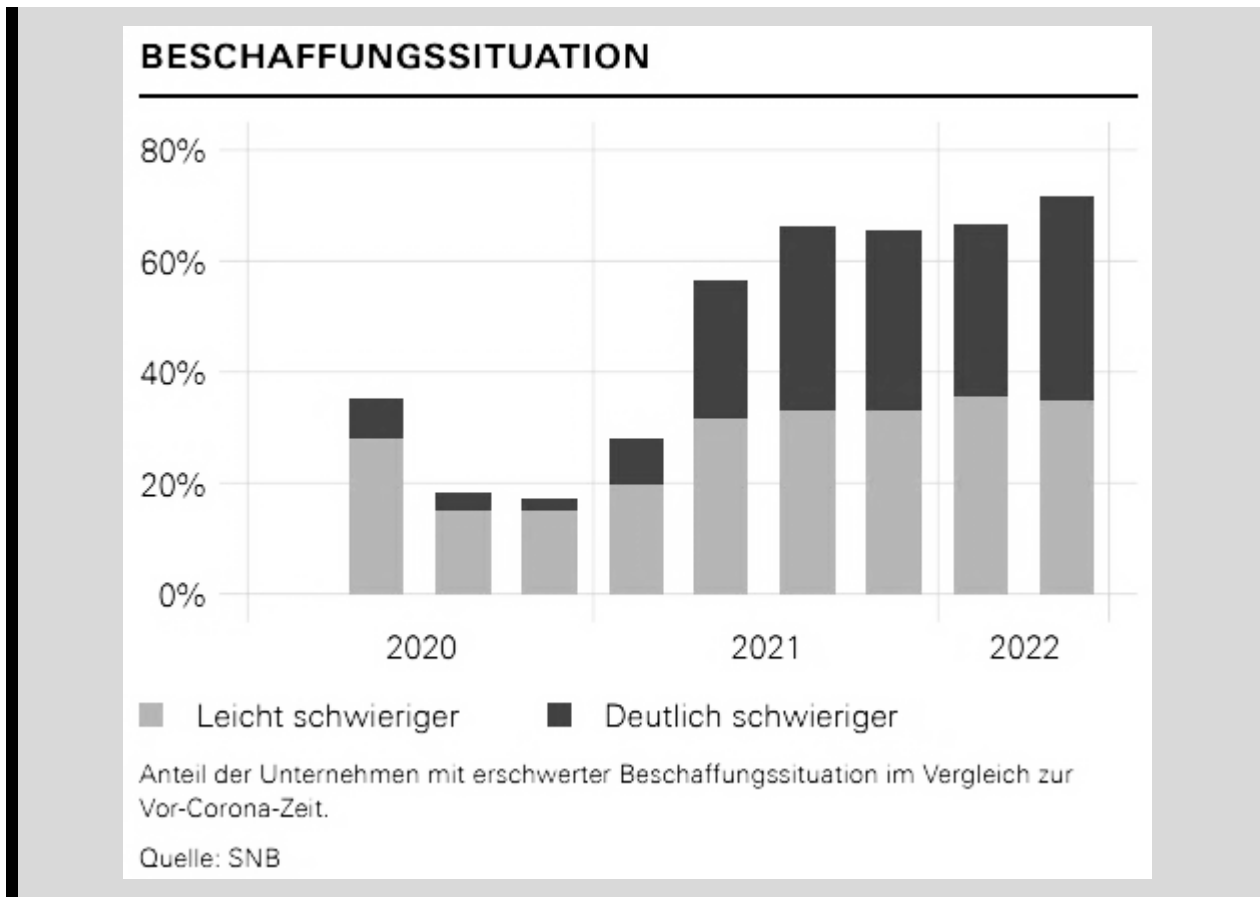
- b) Konjunktur: Der Schweizer Staat unternahm viel, damit der Einbruch in der Wirtschaftsauslastung rasch wieder Richtung normale Auslastung gebracht werden konnte. Wie heisst der Fachausdruck, für diese Art der Wirtschaftspolitik? (1P)

Fachbegriff: _____

- c) Konjunktur: Beschreiben Sie zwei konkrete Massnahmen, welche der Bund zur Bekämpfung der wirtschaftlichen Folgen der Corona-Pandemie ergriffen hat. (2P)

Massnahme 1:

Massnahme 2:



d) Aussenwirtschaft: Aus obiger Grafik erkennen Sie, dass die Beschaffung von Vorleistungen für die Unternehmungen anspruchsvoller wurde. Nennen Sie zwei Ursachen. (2P)

Ursache 1:

Ursache 2:

Die Personalknappheit hat sich im zweiten Quartal 2022 verstärkt. Die Unternehmen möchten in den kommenden Quartalen deutlich mehr Mitarbeitende einstellen. Vor diesem Hintergrund werden die Rekrutierungsschwierigkeiten von vielen Unternehmen als erhebliches Risiko eingestuft.

- e) Preisstabilität: Wie wird sich die oben beschriebene Entwicklung auf die Geldwertstabilität auswirken? Nennen Sie den Fachbegriff für diese Situation und begründen Sie ihre Antwort. (2P)

Fachbegriff: _____

Begründung:

- f) Geldpolitik: Gehen Sie davon aus, dass die Preise allgemein steigen. Wie reagiert die SNB auf eine solche Situation normalerweise? Erklären Sie, wie die von Ihnen beschriebene Massnahme wirkt. (2P)

Massnahme: _____

Wirkung:

Unter «Preise und Inflationserwartungen» schreibt die SNB

Die am Landesindex der Konsumentenpreise (LIK) gemessene Teuerungsrate stieg in den letzten Monaten weiter an. Sie betrug im Mai 2,9%. Die Inflationserwartungen stiegen teilweise etwas an, lagen aber nach wie vor im Bereich der Preisstabilität, welche die SNB mit einem jährlichen Anstieg des LIK von weniger als XX % gleichsetzt.

- g) Preisstabilität: Auf der letzten Linie wurde eine Zahl durch XX ersetzt. Welche Zahl müsste dort stehen?

Fehlende Zahl: _____ % (1P)

Zusatzinformation zum Lösen der nächsten Aufgaben: Ein Mitarbeiter erhält für 2023 eine Lohnerhöhung. Sein Monatslohn steigt von CHF 4'800.- im Jahr 2022 auf CHF 5'100.- im Jahr 2023. Gehen Sie davon aus, dass die Mai-Teuerung der Jahresteuern 2022 entspricht.

1. Berechnen Sie die nominale Lohnerhöhung in %. Ihr Lösungsweg muss nachvollziehbar sein. (1P)

2. Berechnen Sie die reale Lohnerhöhung in % und in Franken. Ihr Lösungsweg muss nachvollziehbar sein. (2P)

3. Erklären Sie dem Mitarbeiter, was die zwei soeben von Ihnen berechneten Zahlen bedeuten. (1P)